

2021 年度

一般選抜入学試験 問題集

日本史 B



共 栄 大 学

教育学部 / 国際経営学部

1 次の史料を読んで、あとの設問に答えなさい。

a) 開皇二十年、倭王あり、姓は阿每、字は多利思比孤、阿摩羅輪と号す。使を遣して隋に詣る。
 b) 上、所可をして其の風俗を訪わしむ。
 c) 大業三年、其の王多利思比孤、d) 使を遣して朝貢す。使者曰く「聞くならず、海西の菩薩天子、重ねて仏法を興すと。故、遣して朝拜せしめ、兼ねて沙門數十人、兼りて仏法を学ぶ」と。其の国書に曰く「日出づる処の天子、書を日没する処の天子に致す。恙無きや、云々」と。e) 帝、之を覽て悦ばず、函牘脚に謂ひて曰く「蕞夷の書、無礼なる有らば、復た以て関する勿れ」と。明年、上、文林郎裴清を遣して倭国に使せしむ。…

(出典：「隋書」倭国伝)

問1 史料中の下線部 a) に関して、この年は西暦に直すと何年になるか正しいものを、次の①～④のうちから1つ選びなさい。

- ① 600年 ② 607年 ③ 608年 ④ 614年

問2 史料中の下線部 b) に関して、これは中国の皇帝を表しているが、この時の皇帝として正しいものを、次の①～④のうちから1つ選びなさい。

- ① 恭帝 ② 文帝 ③ 煬帝 ④ 高宗

問3 史料中の下線部 c) に関して、この年は西暦に直すと何年になるか正しいものを、次の①～④のうちから1つ選びなさい。

- ① 600年 ② 607年 ③ 608年 ④ 614年

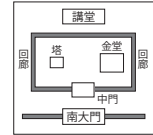
問4 史料中の下線部 d) に関して、使とは誰のことを指すか正しいものを、次の①～④のうちから1つ選びなさい。

- ① 犬上御田嶽 ② 高向玄理 ③ 小野妹子 ④ 南淵請安

問5 史料中の下線部 e) に関して、これは中国の皇帝を表しているが、この時の皇帝として正しいものを、次の①～④のうちから1つ選びなさい。

- ① 恭帝 ② 文帝 ③ 煬帝 ④ 高宗

問6 次の伽藍配置図に該当する寺として正しいものを、次の①～④のうちから1つ選びなさい。



- ① 飛鳥寺
 ② 四天王寺
 ③ 法隆寺
 ④ 広隆寺

問7 飛鳥文化の作品として正しいものを、次の①～④のうちから1つ選びなさい。



2 次の文章を読んで、あとの設問に答えなさい。

平清盛が a) を幽閉し、1180年に孫の b) 天皇を即位させると、中央の貴族・大寺社や地方武士団の中で平氏専制に対する不満が高まり始める。
 この情勢に対して、a) の皇子 c) と摂津源氏の源頼政は、平氏打倒の計画を立てるが平氏方に露見して、c) と源頼政は宇治川の戦いで命を落とすことになったが、c) が諸国の源氏に拳兵を呼びかける「c) の令旨」は、源行家によって諸国の源氏に伝えられた。
 c) と源頼政の拳兵は短期間で失敗したが、その影響は大きく、c) の令旨を奉じた源頼朝や源義仲、甲斐源氏、近江源氏などが各地で蜂起し、治承・寿永の乱の幕を開けることになる。
 平氏は当初、都を d) に移した。d) には良港大輪田泊があり、e) 瀬戸内海支配のための平氏の拠点であったが、この遷都には貴族や寺院の多くが反対したため、約半年間で京都に戻ることになった。その後の平氏は、清盛の突然の死や畿内西国を中心とする飢饉などに襲われ、平氏政権の基盤は弱体化していった。1183年、平氏は北陸で源義仲に敗北すると、b) 天皇を奉じて西国に落ちのびた。
 a) と結んだ源頼朝は、弟の範頼・義経に軍を与えて義仲を近江粟津で打ち破ると、さらに平氏と戦い、摂津 f) 、讃岐 g) 、長門 h) で平氏を滅亡させた。

問1 文中の空欄 a) に入る人物名として正しいものを、次の①～④のうちから1つ選びなさい。

- ① 白河法皇 ② 鳥羽法皇 ③ 後白河法皇 ④ 後鳥羽上皇

問2 文中の空欄 b) に入る天皇名として正しいものを、次の①～④のうちから1つ選びなさい。

- ① 近衛 ② 崇徳 ③ 安徳 ④ 高倉

問3 文中の空欄 c) に入る人物名として正しいものを、次の①～④のうちから1つ選びなさい。

- ① 以仁王 ② 長屋王 ③ 葛城王 ④ 美努王

問4 文中の空欄 d) に入る語として正しいものを、次の①～④のうちから1つ選びなさい。

- ① 大津京 ② 福原京 ③ 長岡京 ④ 恭仁京

問5 文中の下線部 e) に関して、平清盛・重盛らが一門の繁栄を願い装飾経を奉納した神社名として正しいものを、次の①～④のうちから1つ選びなさい。

- ① 伊勢神宮 ② 住吉大社 ③ 厳島神社 ④ 宗像大社

問6 文中の空欄 f) 、g) 、h) に入る語の組み合わせとして正しいものを、次の①～④のうちから1つ選びなさい。

- ① f 一の谷 g 壇の浦 h 屋島
 ② f 屋島 g 一の谷 h 壇の浦
 ③ f 屋島 g 壇の浦 h 一の谷
 ④ f 一の谷 g 屋島 h 壇の浦

3 次の文章を読んで、あとの設問に答えなさい。

徳川綱吉の死後、6代将軍徳川家宣は生類憐みの令を廃し、柳沢吉保を退けて朱子学者のa)新井白石と側用人のb)を登用して政治の刷新を図ろうとしたが、家宣は将軍就任わずか3年余りで亡くなってしまった。後を継いだ7代将軍徳川家継は3歳の幼さであったため、幕府政治は引き続き新井白石らによって行われた。

白石は、将軍職の地位とその権威を高めるため、将軍家継と皇女との婚約をまとめたり、c)三家しかなかった宮家に加えて、閑院宮家創設の費用を献じたりした。

綱吉時代の権臣を更迭したが、勘定奉行は他に適任者がいないので引き続きd)が留任していた。e)は元禄期、高純度のe)金銀を回収し金銀含有率の低い元禄金銀を発行し、家宣時代になってからも将軍の承諾を取り付けることなく独断で宝永金銀を発行し、幕府財政の欠損を補うという貨幣政策をとった結果、約500万両の出目(貨幣改鑄による差益)を生じ、一時的に幕府財政を潤したが、一貫して金銀の純度を下げる方向で改鑄を続けた結果、実態の経済規模と発行済通貨量が著しく不釣り合いになりインフレーションが発生していた。白石はd)を「有史以来の奸物」「極悪人」と断じ、d)を罷免すべきという上申書を提出すること3度におよび、最後にはd)を罷免しなければ殿中でd)を暗殺すると迫ったため、家宣は正徳2年にd)を罷免した。ようやく貨幣政策に関して主導権を握った白石は貨幣の含有率を元に戻すよう主張した。有名な正徳金銀は新井の建言で発行されたもので、これによってデフレーションが発生した。

問1 文中の下線部a)に関して、新井白石の著書として誤っているものを、次の①～④のうちから1つ選びなさい。

- ① 藩翰譜 ② 談史余論 ③ 本朝通鑑 ④ 西洋紀聞

問2 文中の空欄b)に入る人物名として正しいものを、次の①～④のうちから1つ選びなさい。

- ① 牧野成貞 ② 間部詮房 ③ 田沼意次 ④ 水野忠成

問3 文中の下線部c)に関して、この当時の宮家として誤っているものを、次の①～④のうちから1つ選びなさい。

- ① 有栖川宮 ② 伏見宮 ③ 桂宮 ④ 秩父宮



問4 文中の空欄d)に入る人物名として正しいものを、次の①～④のうちから1つ選びなさい。

- ① 神尾春央 ② 荻原重秀 ③ 小栗忠順 ④ 伊奈忠次

問5 文中の空欄e)に入る語として正しいものを、次の①～④のうちから1つ選びなさい。

- ① 慶応 ② 慶安 ③ 慶長 ④ 慶雲

問6 元禄文化の作品として誤っているものを、次の①～④のうちから1つ選びなさい。



4 次の図を見て、あとの設問に答えなさい。

図1)



図2)



図3)



問1 図1)は、大量の法案が元老院に持ち込まれている様子を描いた風刺画である。元老院は、大阪会議での合意に基づき、左院に代わり設置された立法機関である。大阪会議の参加者として誤っているものを、次の①～④のうちから1つ選びなさい。

- ① 大久保利通 ② 副島種臣 ③ 木戸孝允 ④ 板垣退助

問2 元老院の憲法草案として正しいものを、次の①～④のうちから1つ選びなさい。

- ① 日本国憲法 ② 日本帝国憲法
③ 東洋大日本国憲法 ④ 日本憲法見込案

問3 図2)は、開拓使官有物払下げをめぐる開拓長官黒田清隆(クロクコ)とこれに対する人物との対決を表している風刺画である。黒田と対決している人物として正しいものを、次の①～④のうちから1つ選びなさい。

- ① 山縣有朋 ② 伊藤博文 ③ 大隈重信 ④ 西郷従道

問4 薩摩藩出身の政商で関西貿易社を経営し、開拓使官有物払下げ事件に関わり、批判を受けた人物として正しいものを、次の①～④のうちから1つ選びなさい。

- ① 森 有礼 ② 川路利良 ③ 五代友厚 ④ 淡沢栄一

問5 図3)は、保安条例公布直後に新聞紙条例を改正して取り締まりを緩めたが、基本的には変わらず警察官が新聞人を取り締まっている様子を風刺している。この絵を描いた人物として正しいものを、次の①～④のうちから1つ選びなさい。

- ① ワーグマン ② キヨソネ
③ フォンタネージ ④ ビゴ

問6 保安条例公布時の内務大臣として正しいものを、次の①～④のうちから1つ選びなさい。

- ① 三島通庸 ② 山縣有朋 ③ 西郷従道 ④ 品川弥二郎

5 次の文章を読んで、あとの設問に答えなさい。

日本の敗戦後、北緯 a 度線によって南北に分断された朝鮮半島で、b)1950 年 6 月 25 日、c)北朝鮮軍が a 度線を突破して南下して大韓民国に侵攻し、以後、53 年 7 月 27 日の休戦協定調印まで朝鮮戦争が続いた。当初、韓国軍を釜山まで追い詰めた北朝鮮軍は、米軍主体の国連軍の仁川上陸で中国国境の新義州まで敗走、その時点で中国の義勇軍が参戦、韓国軍・国連軍を退却させた。以来戦闘は a 度線沿いに続けられ、休戦協定によって a 度線と斜めに交わる軍事境界線が設定された。これが今日の南北の事実上の国境線となり、南北の分断を固定化した。

朝鮮戦争が始まると、在日アメリカ軍が朝鮮に動員されたあとの軍事的空白を埋めるために警察予備隊が新設された。

朝鮮戦争で日本の戦略的価値を再認識したアメリカは、占領を終わらせて日本を西側陣営に早期編入させようとする動きを加速させた。1951 年 9 月、サンフランシスコで講和会議が開かれ、日本と 48 カ国との間で d)サンフランシスコ平和条約が調印された。翌年 4 月に条約が発効して約 7 年間の占領は終結し、日本は独立国としての主権を回復した。

平和条約調印と同じ日、e)日米安全保障条約が調印され、独立後もアメリカ軍が日本国内に駐留することとなった。

問 1 文中の空欄 a に入る語として正しいものを、次の①～④のうちから 1 つ選びなさい。

- ① 36 ② 37 ③ 38 ④ 39

問 2 文中の下線部 b)に関して、この当時の日本の総理大臣として正しいものを、次の①～④のうちから 1 つ選びなさい。

- ① 芦田 均 ② 鳩山一郎 ③ 吉田 茂 ④ 石橋湛山

問 3 文中の下線部 b)に関して、この当時のアメリカ大統領として正しいものを、次の①～④のうちから 1 つ選びなさい。

- ① マッカーサー ② ローズベルト
③ アイゼンハワー ④ トルーマン

問 4 文中の下線部 c)に関して、この当時の朝鮮民主主義人民共和国の首相として正しいものを、次の①～④のうちから 1 つ選びなさい。

- ① 金 正男 ② 金 正日 ③ 金 正恩 ④ 金 日成

問 5 文中の下線部 d)に関して、調印拒否国として誤っているものを、次の①～④のうちから 1 つ選びなさい。

- ① 中華人民共和国 ② ソビエト
③ ポーランド ④ チェコスロバキア

問 6 文中の下線部 d)に関して、平和条約調印後もアメリカの施政権下に置かれた地域で日本に一番早く返還された地域として正しいものを、次の①～④のうちから 1 つ選びなさい。

- ① 小笠原諸島 ② 北方領土 ③ 奄美諸島 ④ 琉球諸島

問 7 文中の下線部 e)に関して、この条約は後に新安保条約として改定される。新安保条約調印時の内閣総理大臣として正しいものを、次の①～④のうちから 1 つ選びなさい。

- ① 佐藤栄作 ② 池田勇人 ③ 岸 信介 ④ 鳩山一郎

【日本史 B】

1 22 点	設問	解答	配点
	問 1	①	3
	問 2	②	4
	問 3	②	3
	問 4	③	3
	問 5	③	3
	問 6	③	3
	問 7	②	3

2 19 点	設問	解答	配点
	問 1	③	3
	問 2	③	3
	問 3	①	3
	問 4	②	3
	問 5	③	3
	問 6	④	4

3 18 点	設問	解答	配点
	問 1	③	3
	問 2	②	3
	問 3	④	3
	問 4	②	3
	問 5	③	3
	問 6	③	3

4 19 点	設問	解答	配点
	問 1	②	3
	問 2	①	3
	問 3	③	3
	問 4	③	3
	問 5	④	4
	問 6	②	3

5 22 点	設問	解答	配点
	問 1	③	3
	問 2	③	3
	問 3	④	3
	問 4	④	3
	問 5	①	3
	問 6	③	4
問 7	③	3	



共栄大学

学務部 入試担当

〒344-0051 埼玉県春日部市内牧 4158
電 話 048-755-2490 (直通)