

2025 年度

一般選抜入学試験 問題集

世界史



共 栄 大 学

教育学部 / 国際経営学部

1 朝鮮の植民地化に関する次の文章を読み、あとの問いに答えなさい。

19 世紀中頃、朝鮮は列強諸国から開国要求をつきつけられていたが、摂政の [7] がこれを拒否していた。その後、王紀閔妃の一族によって [7] は失脚させられていたが、対外方針はかわらなかった。1875 年、日本は [4] を機に朝鮮に迫り、翌 1876 年に釜山・仁川・元山の開港を含む日本に有利な [7] を締結した。

朝鮮内部では、1882 年に軍隊が [7] を擁立して閔氏一派と日本公使館を襲撃したが、清は [7] を捕まえ、閔氏一派を援助して朝鮮での主導権を高めた。この出来事を [5] と呼んだ。その後、1884 年に清との関係を重んじる閔氏らの保守派と清からの自立をめざし日本に接近する開化派との対立が起こった。開化派の [4] ・朴泳孝らが日本の支持を背景に反乱を起こしたが、袁世凱が率いる清軍に鎮圧された。この一連の出来事を [7] と呼び、朝鮮における清の影響力は強まった。

その後 1894 年、全瑋準を指導者とする [4] が半島南部を中心に拡大すると、日清両国が出兵し日清戦争が勃発した。清の北洋艦隊は日本海軍に敗れ、遼東半島の陸上戦でも日本が勝利をおさめ、1895 年に [7] が締結された。この条約によって朝鮮の完全独立が認められ、その後、1897 年には国号を大韓帝国と改め、国王は皇帝として清や日本と対等であることを内外に示した。しかし、1905 年の第 2 次日韓協約で日本は韓国の外交権を奪って保護国化し、初代韓国統監として [7] を派遣した。これに対し大韓帝国では、オランダのハーグで開かれた 1907 年の第 2 回万国平和会議に皇帝が密使を派遣して日本の侵略を訴えようとしたが失敗し、日本は皇帝の高宗を退位させた。また、韓国社会内部では日本に抵抗する反日義兵闘争が激化していった。そうした中で 1909 年、ハルビンで [7] によって [7] が暗殺された。すると翌 1910 年、列強黙認のもと日本は韓国併合を断行し、朝鮮総督府を置いて武断政治のもとづく植民地統治を開始した。

問 1 空欄 [7] に入る人物を、次の①～④の中から 1 つ選び [1] にマークしなさい。

- ① 李成桂 ② 張居正 ③ 大院君 ④ 李舜臣

問 2 空欄 [4] に入る出来事を、次の①～④の中から 1 つ選び [2] にマークしなさい。

- ① 江華島事件 ② 義和団戦争 ③ 張鼓峰事件 ④ 平英団事件

問 3 空欄 [7] に入る通語を、次の①～④の中から 1 つ選び [3] にマークしなさい。

- ① 韓国保護条約 ② 日朝修好条規 ③ 済物浦条約 ④ 望厦条約

問 4 空欄 [5] に入る出来事を、次の①～④の中から 1 つ選び [4] にマークしなさい。

- ① 戊戌の政変 ② 壬午軍乱 ③ 丁酉倭乱 ④ 甲申事変

問 5 空欄 [4] に入る人物を、次の①～④の中から 1 つ選び [5] にマークしなさい。

- ① 金玉均 ② 崔濟愚 ③ 康有為 ④ 安重根

問 6 空欄 [7] に入る出来事を、次の①～④の中から 1 つ選び [6] にマークしなさい。

- ① 戊戌の政変 ② 壬午軍乱 ③ 丁酉倭乱 ④ 甲申事変

問 7 空欄 [4] に入る出来事を、次の①～④の中から 1 つ選び [7] にマークしなさい。

- ① 鄭茂七の乱 ② 万歳事件 ③ 甲午農民戦争 ④ 光州事件

問 8 空欄 [7] に入る通語を、次の①～④の中から 1 つ選び [8] にマークしなさい。

- ① 天津条約 ② 下関条約 ③ 南京条約 ④ 北京条約

問 9 空欄 [7] に入る人物を、次の①～④の中から 1 つ選び [9] にマークしなさい。

- ① 陸奥宗光 ② 寺内正毅 ③ 伊藤博文 ④ 大隈重信

問 10 空欄 [7] に入る人物を、次の①～④の中から 1 つ選び [10] にマークしなさい。

- ① 金玉均 ② 崔濟愚 ③ 康有為 ④ 安重根

2 神聖ローマ帝国について述べた次の文章を読み、あとの問いに答えなさい。

962 年に成立した神聖ローマ帝国は、古代ローマ帝国の後継国家としてキリスト教世界を保護する役割を担って誕生した。しかし、この帝国は、[4] 11 ～ 12 世紀に聖職者の任命権をめぐって皇帝がローマ教皇と対立したり、諸侯や都市が分立する連邦的な国家であったため、皇帝がイタリア政策に熱中しドイツ国内をまとめることができず、皇帝不在の[7]大空位時代が生じたこともあった。その後、1356 年に皇帝カール 4 世が A 金印勅書 を発布したが混乱は収拾されず、1438 年以降はオーストリアのハプスブルク家が皇帝位を世襲するようになった。

皇帝位を独占したハプスブルク家は、他国との婚姻関係を通じてスペインや[7]オランダなどにまで領土を広げ、神聖ローマ帝国はハプスブルク家の統治のもと 16 世紀に繁栄した。一方、帝国内で [4] 1517 年に宗教改革が始まり、プロテスタント勢力が台頭すると長引く対立を収束させるため、1555 年に B アウクスブルクの和議 が結ばれた。翌年、皇帝 [7] は退位し、彼の悲願であったカトリック信仰で統一されたキリスト教帝国は夢に終わった。その後もカトリックとプロテスタントの対立は続き、これに端を発した [4] 三十年戦争はフランスやスウェーデンも参戦してヨーロッパ全土を巻き込む宗教戦争となった。この戦争は 1648 年の C ウェストファリア条約 で終結した。これを機にヨーロッパ各国の主権国家体制が確立され、神聖ローマ帝国の諸侯にはほぼ完全な主権が承認されたため皇帝の権威は低下した。このことからこの条約は「帝国の死亡診断書」と評されることもあるが、一方で条約は皇帝を盟主的存在とする連合体という従来の帝国の体制を維持したものにすぎないという見方もある。

17 世紀後半の神聖ローマ帝国内では、隣国フランスによる領土拡張政策や [7] イスラーム国家オスマン帝国の脅威への危機感が高まっていた。皇帝は帝国の「守護者」としての期待に応えるため、外敵を撃退することで威信を高めた。このように帝国は「皇帝を中心とする共同体」として機能していたのである。

しかし、18 世紀半ば以降の神聖ローマ帝国は苦難が続いた。1740 年、ハプスブルク家は男系男子が断絶し、これを機に [7] オーストリア継承戦争が始まるなどハプスブルク家による帝国支配は揺らいでいった。そして 1806 年、[7] フランスのナポレオンが主導した [7] に南西ドイツ諸侯が加わったのをきっかけに、当時の皇帝フランツ 2 世が退位して、およそ 850 年続いた神聖ローマ帝国は消滅したのである。

問 1 文章中 A ～ C とその内容を示している次の史料あ～うの組み合わせとして正しいものを、下の①～⑥の中から 1 つ選び [11] にマークしなさい。

あ 諸侯の信仰は自由であり、自領の信仰はルター派かカトリック教会を選ぶことができ、そして領民にはその信仰に従わせるとした。

い 神聖ローマ皇帝を選定する 7 人の選帝侯を規定している。選帝侯はマインツ大司教、トリアー大司教、ケルン大司教の 3 聖職諸侯、プファルツ伯、ザクセン公、ブランデンブルク辺境伯、バーメン王の 4 世俗諸侯の計 7 侯に定める。

う ルター派、カトリック教会の他にカルヴァン派の信仰も認められたが、従来通り信仰の自由は諸侯に与えられ、領民は諸侯の宗派に従った。

- ① A-あ B-い C-う ② A-あ B-う C-い
③ A-い B-あ C-う ④ A-い B-う C-あ
⑤ A-う B-あ C-い ⑥ A-う B-い C-あ


問 2 下線部 [7] に関連して述べた次の文 a と b の正誤の組み合わせとして正しいものを、下の①～④の中から 1 つ選び [12] にマークしなさい。

- a オットー 1 世がローマ教皇ヨハネス 12 世から戴冠を受けて神聖ローマ帝国は成立した。
b 皇帝フリードリヒ 1 世は第 1 回十字軍に参加してエルサレム王国を建設した。

- ① a-正 b-正 ② a-正 b-誤
③ a-誤 b-正 ④ a-誤 b-誤

問 3 下線部 [7] に関連した次の絵の説明として正しいものを、次の①～④の中から 1 つ選び [13] にマークしなさい。

- ① ハインリヒ 4 世が教皇に謝罪するため、カノッサ城主とクレーニー修道院長に教皇へのとりなしを頼んでいる様子。
② 聖職叙任権は教皇がもち、ドイツ領内では皇帝が教会・修道院の領地の承認権を持つという内容のヴォルムス協約を結んだときの様子。
③ 教皇ボニファティウス 8 世がフィリップ 4 世と争い、ローマ近郊のアナーニに捕囚されたときの様子。
④ 第 4 回十字軍を提唱した教皇インノケンティウス 3 世が、遠征に反対する皇帝に従軍を依頼している様子。



問4 下線部①と同じ時期に起こった出来事として正しいものを、次の①～④の中から1つ選び **14** にマークしなさい。

- ① オゴタイ・ハンが金を減ばして華北を支配下に入れた。
 ② テムジンがクリルタイでハンに選ばれてチンギス・ハンと称した。
 ③ パトゥはワールシュタットの戦いでドイツ・ポーランド諸侯連合軍を破った。
 ④ フレグは西アジアに遠征しアッパース朝を滅ばした。

問5 下線部②に関連して、オランダ独立戦争について述べた次の文章を読み、下線部①～④の中から **誤りを含むもの** を1つ選び **15** にマークしなさい。

ネーデルラントはスペインの属領であったが、住民はフェリペ2世の①**宗教弾圧**や重税政策に反対し、②**オラニエ公ウィレム**を指導者として独立戦争に立ち上がった。③**新教徒**の多い南部10州は途中でスペインに服属したが、北部7州は④**ユトレヒト同盟**を結び、イギリスの援助を受けて戦い続けた。そして、独立を宣言しネーデルラント連邦共和国を成立させた。

問6 下線部④に関連して述べた次の文 **a** と **b** の正誤の組み合わせとして正しいものを、下の①～④の中から1つ選び **16** にマークしなさい。

- a** ルターは教皇レオ10世が認めた贖宥状の販売を批判し、「九十五か条の論題」を発表した。
b 自説の撤回を拒否したルターはザクセン選帝侯の保護を受け、「新約聖書」をドイツ語に翻訳してその普及に努めた。

- ① **a** - 正 **b** - 正 ② **a** - 正 **b** - 誤
 ③ **a** - 誤 **b** - 正 ④ **a** - 誤 **b** - 誤

問7 空欄 **19** に入る皇帝を次の①～④の中から1つ選び **17** にマークしなさい。

- ① ウルバヌス2世 ② フェルディナント1世
 ③ ヨーゼフ2世 ④ カール5世

問8 下線部①について述べた文として正しいものを、次の①～④の中から1つ選び **18** にマークしなさい。

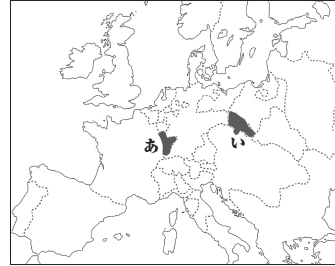
- ① 三十年戦争はネーデルラントの新教徒の反乱をきっかけに始まった。
 ② 三十年戦争ではカトリック派の皇帝軍とフランス軍が手を結び、新教徒側と戦った。
 ③ 三十年戦争では皇帝側の傭兵隊長ヴァレンシュタインが新教徒側と戦った。
 ④ 三十年戦争ではスウェーデン王グスタフ・アドルフが皇帝側を支援して、新教徒側と戦った。

問9 下線部②に関する次の出来事 **X** ～ **Z** を古い順に正しく並べたものを、下の①～⑥の中から1つ選び **19** にマークしなさい。

- X** マムルーク朝を滅ぼし、メッカ、メディナの支配権を得た。
Y コンスタンティノープルを占領し、ビザンツ帝国を滅ぼした。
Z フランスにカピチュレーションを与えた。

- ① **X** → **Y** → **Z** ② **X** → **Z** → **Y** ③ **Y** → **X** → **Z**
 ④ **Y** → **Z** → **X** ⑤ **Z** → **X** → **Y** ⑥ **Z** → **Y** → **X**

問10 下線部③の結果、プロイセンが獲得した領土の地名と地図中の位置 **あ** ・ **い** との組み合わせとして正しいものを、下の①～④の中から1つ選び **20** にマークしなさい。



- ① シュレジエン - **あ** ② シュレジエン - **い**
 ③ アルザス・ロレーヌ - **あ** ④ アルザス・ロレーヌ - **い**

問11 下線部④の時代の次の出来事 **X** ～ **Z** を古い順に正しく並べたものを、下の①～⑥の中から1つ選び **21** にマークしなさい。

- X** アウステルリッツの戦いでオーストリア・ロシアの連合軍に勝利した。
Y 大陸封鎖令を発し、イギリスとの通商を禁止した。
Z 近代市民社会の原理をまとめた民法典を制定した。

- ① **X** → **Y** → **Z** ② **X** → **Z** → **Y** ③ **Y** → **X** → **Z**
 ④ **Y** → **Z** → **X** ⑤ **Z** → **X** → **Y** ⑥ **Z** → **Y** → **X**

問12 空欄 **24** に入る適語を次の①～④の中から1つ選び **22** にマークしなさい。

- ① ライン同盟 ② バルカン同盟 ③ 神聖同盟 ④ 武装中立同盟

3 次の【史料1】・【史料2】は世界史上の人物らの旅行記の一節である。これらの史料とその解説文を読み、あとの問いに答えなさい。

【史料1】

ここにおいて商人の船舶に乗り、海に浮かんで西南行した。冬の初めの信風(季節風)を得て、昼夜14日で歸子国(註1)に到った。かの国の人がいうには、(タムラプティ国(註2)から歸子国まで)相去ることおよそ700由延(註3)であるという。……

その国(耶婆提国(註4))は外道、バラモンが盛んで、仏法は言うに足らない。この国にとどまること5ヶ月、また他の商人に従って(船にのった)。大船上はまた200人ばかり(の人がのり)、50日分の食料を用意した。4月16日に(この国を)出発し、**17** は船上で安居した。……

商人たちは話し合って、「いつも行く時は、まさに50日で**18** 広州に達するものだ。いまはもう50日を大分過ぎている。恐らく大分違った所に来ているのだろう」と言った。

(歴史学研究会編『世界史史料3』岩波書店)

【註1】スリランカ 【註2】ガンジス川河口の国 【註3】距離の単位 【註4】ジャバ島西部の国

【史料1】は、インドに渡った**9** 東晋時代の僧 **17** の旅行記である。**17** は60歳過ぎてこの大旅行(399～413年)に挑んだと言われている。往路は長安を出発して陸路で苦難の末、**19** グプタ朝のチャンドラグプタ2世治下の **24** に至り、戒律の原典を入手し、スリランカに渡って海路で帰国した。この前後約15年の旅の記録をまとめた『仏国記』は**20** 当時の西域・インド・南海諸国の様子を伝える貴重な文献である。史料から季節風貿易に対する信頼度の高さが見てとれる。

問1 空欄 **17** に入る人物として正しいものを、次の①～④の中から1つ選び **23** にマークしなさい。


- ① 義浄 ② 法顕 ③ 玄奘 ④ 仏図澄

問2 下線部①に関連して述べた次の文 **a** と **b** の正誤の組み合わせとして正しいものを、下の①～④の中から1つ選び **24** にマークしなさい。

- a** 唐の時代、広州に海上貿易全般の管理をおこなう役所として公行が設置された。
b 清の康熙帝は外国船の来港を広州1港に限定した。

- ① **a** - 正 **b** - 正 ② **a** - 正 **b** - 誤
 ③ **a** - 誤 **b** - 正 ④ **a** - 誤 **b** - 誤

問3 下線部②の絵画とその作者の組み合わせとして正しいものを、下の①～④の中から1つ選び **25** にマークしなさい。



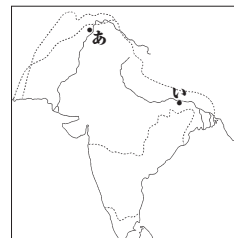
A 徴宗 **B** 顧愷之

- ① **あ** - **A** ② **あ** - **B** ③ **い** - **A** ④ **い** - **B**

問4 下線部③の時代について述べた文として正しいものを、次の①～④の中から1つ選び **26** にマークしなさい。

- ① ナーガールジュナが大乗仏教の理論を確立した。
 ② ガウタマ・シッダールタがブッダガヤの菩提樹の下で悟りを開いた。
 ③ ナーランダール僧院が建立され仏教教学の中心となった。
 ④ カニシカ王の治世にガンダーラ美術が発達した。

問5 空欄 **24** に入るグプタ朝の都とその地図中の位置 **あ** ・ **い** との組み合わせとして正しいものを、下の①～④の中から1つ選び **27** にマークしなさい。



- ① パータリプトラ - **あ** ② パータリプトラ - **い**
 ③ プルシャプラ - **あ** ④ プルシャプラ - **い**

問6 下線部(カ)について述べた文として正しいものを、次の①～④の中から1つ選び **28** にマークしなさい。

- ① クチャ出身の鳩摩羅什が長安に招かれ仏典を漢訳した。
- ② ジャワ島のシャイレンドラ朝ではボロブドゥール寺院が造営された。
- ③ アショカ王が第3回仏典結集をおこないスリランカなど国外への布教活動を推進した。
- ④ スマトラ島を中心にシュリーヴィジャヤ王国が栄えた。

【史料2】

ジバング（日本国）は、東のかた、大陸から1500マイルの大洋中にある、とても大きな島である。住民は皮膚の色が白く礼節の正しい優雅な偶像教徒であって、独立国をなし、自己の国王をいただいている。この国では至る所に黄金が見つかるものだから、国人は誰でも莫大な黄金を所有している。この国へは大陸から誰も行った者がいない。商人でさえ訪れないから、豊富なこの黄金はかつて一度も国外に持ち出されなかった。右のような莫大な黄金がその国に現存するのは、全くかかってこの理由による。……

この国王の一大宮殿は、それこそ純金づくめで出来ているのですぞ。我々ヨーロッパ人が家屋や教会堂の屋根を鉛板でふくように、この宮殿の屋根はすべて純金でふかれている。したがって、その値打ちはとても評価できるようなものではない。

（愛宕松男訳「完訳東方見聞録2」平凡社）

【史料2】は、(カ)ヴェネツィアの商人 (ケ) が、1298年ジェノヴァで捕らえられたとき獄中で旅の詳細を口述し、それと同じく投獄されていたルスティエロが書き留めたものである。後に『世界の記述』（『東方見聞録』）として出版され、ヨーロッパの人たちがアジアへの関心を大いに高めていく歴史的書物となった。日本に関するこの記述が「黄金の島ジバング」としてヨーロッパに広まり、アジアへの憧憬をさらに高めた。そして、これが(コ)コロンブスの(カ)アジア航海の重要な動機になったことは有名である。

問7 下線部(キ)に関連して、次の写真の聖堂とその建築様式の組み合わせとして正しいものを下の①～④の中から1つ選び **29** にマークしなさい。

- ① ビサ大聖堂－ロマネスク様式
- ② ケルン大聖堂－ロマネスク様式
- ③ ビサ大聖堂－ゴシック様式
- ④ ケルン大聖堂－ゴシック様式



－9－

問8 下線部(ク)に関連して述べた次の文 **a** と **b** の正誤の組み合わせとして正しいものを、下の①～④の中から1つ選び **30** にマークしなさい。

- a** ヴェネツィアのメディチ家は大富豪で市政を掌握し、ルネサンス最大の庇護者となった。
- b** ヴェネツィア商人の思惑もあり、第4回十字軍はコンスタンティノープルを占領した。

- ① **a**－正 **b**－正
- ② **a**－正 **b**－誤
- ③ **a**－誤 **b**－正
- ④ **a**－誤 **b**－誤

問9 空欄 (ケ) に入る人物を次の①～④の中から1つ選び **31** にマークしなさい。

- ① イブン=バットウータ
- ② マルコ=ポーロ
- ③ スウィフト
- ④ マキアヴェリ

問10 下線部(コ)について述べた文として正しいものを、次の①～④の中から1つ選び **32** にマークしなさい。

- ① コロンブスはトスカネリの地球球体説を信じて西回りでインドを目指した。
- ② コロンブスはポルトガル王ジョアン2世の援助を受けてリスボン港を出発した。
- ③ コロンブスはフィリピンに到達したが、現地人と争い戦死した。
- ④ コロンブスはパナマ地峡を横断し太平洋に到着し「南の海」と命名した。

問11 下線部(サ)に関連して述べた次の文 **a** と **b** の正誤の組み合わせとして正しいものを、下の①～④の中から1つ選び **33** にマークしなさい。

- a** ヴァスコ=ダ=ガマはアフリカ南端の喜望峯をまわり、インドのゴアに到達した。
- b** ポルトガルはマカオに居住権を得て、対中国貿易の拠点とした。

- ① **a**－正 **b**－正
- ② **a**－正 **b**－誤
- ③ **a**－誤 **b**－正
- ④ **a**－誤 **b**－誤

－10－

4 1968 年に関する次の文章を読んで、あとの問いに答えなさい。

1968 年は、戦後体制の転換を象徴するさまざまな事件が起きた年である。米ソを軸とした冷戦構造に変化が見られ、米ソの国際社会における指導力に陰りが見え始めてきた。そして、(ア)アジア・アフリカの第三勢力の台頭も見られた。

アメリカでは(イ)ベトナム戦争による戦費増大によって国際収支の赤字が拡大し、ドル不安が増長していった。そのため、(ウ)世界の金市場ではドルが売られ、金を買われるという事態を招き、ドル不安が深刻化してアメリカ経済の後退が顕著となった。ベトナム戦争が長期化しアメリカ財政が深刻化する中、大統領選挙に勝利した(ロ)ニクソン大統領は、ベトナム戦争終結に向けて取り組みとともに、(オ)ソ連とのデタント（緊張緩和）政策を展開するようになった。

フランスでもこの年の五月に学生・労働者・市民による大規模な反体制運動が起こった。これを「五月危機」と呼んでいる。この出来事は、戦後フランスを支配した(カ)ド=ゴール体制における内政面の保守性をさらけ出したとも言える。六月の総選挙でド=ゴール派が大勝して政治危機は一応収拾されたが、ド=ゴールの威信は損なわれ、翌年退陣に至る要因となった。

この年に核保有国の増大を阻止しようとして米ソが主導して (キ) が成立し、新たな核保有国が生まれることは禁じられた。しかし、米ソによる国際政治管理に不満を持つ(ク)2つの核保有国は当初条約を批准せず、冷戦終結後の1992年に加盟した。1970年代以降、(ケ)に加わっていない(ク)インド・パキスタンと脱退した(コ)北朝鮮が核実験に成功し、核保有国が増加しているのが現状である。

1968年、チェコスロヴァキアでは民衆の不満を背景に (コ) 政権が成立し、経済の自由化や市民的な自由の拡大を含む改革を実施し、民衆もこれを支持した。しかし(シ)ソ連軍が侵入し、これを弾圧したため、チェコスロヴァキアの民主化・自由化路線は挫折した。

問1 下線部(ア)に関連して述べた文として誤っているものを、次の①～④の中から1つ選び **34** にマークしなさい。

- ① 1954年にインドのネルー首相と中国の周恩来首相が「平和五原則」を発表した。
- ② 1955年にインドネシアのジャカルタでアジア=アフリカ会議が開かれた。
- ③ 1960年にアフリカでは17の新興国が独立をしたので、この年を「アフリカの年」と呼ぶ。
- ④ 1961年にユーゴスラヴィアのベオグラードで非同盟諸国首脳会議が開かれた。

問2 下線部(イ)について述べた次の文 **a** と **b** の正誤の組み合わせとして正しいものを、下の①～④の中から1つ選び **35** にマークしなさい。

- a** アメリカのケネディ大統領は北ベトナムに大規模な爆撃（北爆）を開始した。
- b** パリ和平協定が成立してアメリカ軍はベトナムから撤退した。

- ① **a**－正 **b**－正
- ② **a**－正 **b**－誤
- ③ **a**－誤 **b**－正
- ④ **a**－誤 **b**－誤

－11－

問3 下線部(ウ)に関連して、金兌換によって裏打ちされたアメリカのドルを基軸通貨とした固定為替相場制によって戦後の世界経済の復興を支えてきたが、この国際金融体制として正しいものを、次の①～④から1つ選び **36** にマークしなさい。

- ① キングストン体制
- ② スミソニアン体制
- ③ プラザ体制
- ④ ブレトン=ウッズ体制

問4 下線部(ロ)について述べた次の文のうち誤っているものを、次の①～④の中から1つ選び **37** にマークしなさい。

- ① エジプト=イスラエル平和条約の仲介をした。
- ② 金とドルの交換を停止した。
- ③ 中国を訪問して毛沢東と会談をした。
- ④ ウォーターゲート事件で支持を失い大統領を辞任した。

問5 下線部(ケ)について述べた次の文 **a** と **b** の正誤の組み合わせとして正しいものを、下の①～④の中から1つ選び **38** にマークしなさい。

- a** 第1次戦略兵器制限交渉（SALT・I）が米ソ間で1972年に調印された。
- b** アメリカがNATOの軍事部門から脱退し、ソ連もコミンフォルムを解散した。

- ① **a**－正 **b**－正
- ② **a**－正 **b**－誤
- ③ **a**－誤 **b**－正
- ④ **a**－誤 **b**－誤

問6 下線部(サ)がおこなったことについて述べた次の文のうち正しいものを、次の①～④の中から1つ選び **39** にマークしなさい。

- ① アルジェリアの独立を承認した。
- ② ジェネーブ四巨頭会議に参加した。
- ③ フォークランド戦争を起こした。
- ④ イギリスのEC加盟を認めた。

問7 空欄 (キ) に入る適語を、次の①～④の中から1つ選び **40** にマークしなさい。

- ① 包括的核実験禁止条約
- ② 核拡散防止条約
- ③ 部分的核実験停止条約
- ④ 核戦争防止協定

－12－

問8 下線部⑦の国の組合せとして正しいものを、次の①～⑥の中から1つ選び **41** にマークしなさい。

- | | |
|-------------|-------------|
| ① イギリス・中国 | ② イギリス・フランス |
| ③ イギリス・西ドイツ | ④ 中国・フランス |
| ⑤ 中国・西ドイツ | ⑥ フランス・西ドイツ |

問9 下線部⑧について述べた次の文のうち正しいものを、次の①～④の中から1つ選び **42** にマークしなさい。

- ① 全インドの独立を提唱していたガンディーは急進的なムスリムに暗殺された。
- ② ネルーはインド独立後、初代首相に就任した。
- ③ スカルノはパキスタン独立の指導者であった。
- ④ インド・パキスタン両国はアッサム地方の帰属をめぐって争い武力衝突が起こった。

問10 下線部⑨の初代首相を、次の①～④の中から1つ選び **43** にマークしなさい。

- | | | | |
|-------|-------|-------|-------|
| ① 金正恩 | ② 金正日 | ③ 金大中 | ④ 金日成 |
|-------|-------|-------|-------|

問11 空欄 **44** に入る人物を、次の①～④の中から1つ選び **44** にマークしなさい。

- | | | | |
|----------|---------|--------|----------|
| ① ナジ=イムレ | ② ドブチェク | ③ ゴムウカ | ④ チャウシェク |
|----------|---------|--------|----------|

問12 下線部⑩について述べた次の文 **a** と **b** の正誤の組み合わせとして正しいものを、下の①～④の中から1つ選び **45** にマークしなさい。

- a** チェコスロヴァキアにおけるこの民主化運動は「プラハの春」と呼ばれている。
- b** ソ連のブレジネフはチェコスロヴァキアへの軍事介入を正当化するため「制限主権論」を唱えた。

- | | |
|---------------------------|---------------------------|
| ① a －正 b －正 | ② a －正 b －誤 |
| ③ a －誤 b －正 | ④ a －誤 b －誤 |

【世界史】

①		
問 題	解 答	配 点
1	③	2
2	①	2
3	②	2
4	②	2
5	①	2
6	④	2
7	③	2
8	②	2
9	③	2
10	④	2

②		
問 題	解 答	配 点
11	③	3
12	②	2
13	①	2
14	④	2
15	③	2
16	①	2
17	④	2
18	③	2
19	③	3
20	②	3
21	⑤	3
22	①	2

③		
問 題	解 答	配 点
23	②	2
24	④	2
25	②	3
26	③	2
27	②	3
28	①	2
29	④	3
30	③	2
31	②	2
32	①	2
33	③	2

④		
問 題	解 答	配 点
34	②	2
35	③	3
36	④	2
37	①	2
38	②	3
39	①	2
40	②	2
41	④	2
42	②	2
43	④	2
44	②	2
45	①	3



共 栄 大 学

学務部 入試課

〒344-0051 埼玉県春日部市内牧 4158

電 話 048-755-2490 (直通)